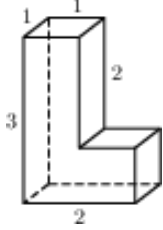
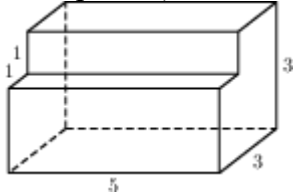


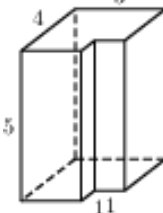
- 1 № 25541 Найдите площадь поверхности многогранника (все двугранные углы прямые).



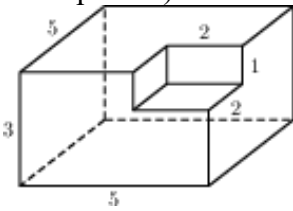
- 2 № 25561 Найдите площадь поверхности многогранника, изображенного на рисунке (все двугранные углы прямые).



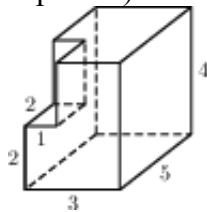
- 3 № 25581 Найдите площадь поверхности многогранника, изображенного на рисунке (все двугранные углы прямые).



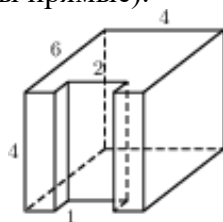
- 4 № 25601 Найдите площадь поверхности многогранника, изображенного на рисунке (все двугранные углы прямые).



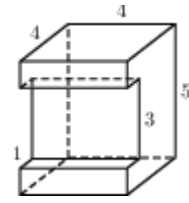
- 5 № 25621 Найдите площадь поверхности многогранника, изображенного на рисунке (все двугранные углы прямые).



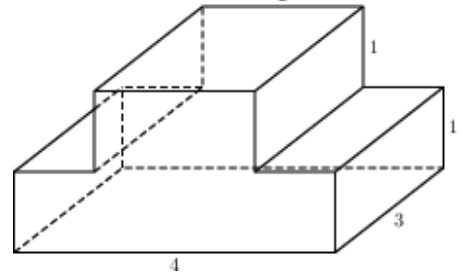
- 6 № 25641 Найдите площадь поверхности многогранника, изображенного на рисунке (все двугранные углы прямые).



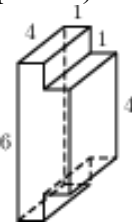
- 7 № 25661 Найдите площадь поверхности многогранника, изображенного на рисунке (все двугранные углы прямые).



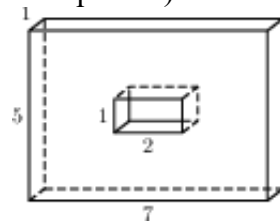
- 8 № 25681 Найдите площадь поверхности многогранника, изображенного на рисунке (все двугранные углы прямые).



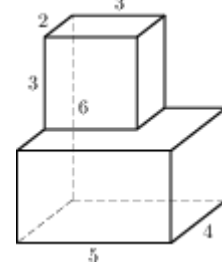
- 9 № 25701 Найдите площадь поверхности многогранника, изображенного на рисунке (все двугранные углы прямые).



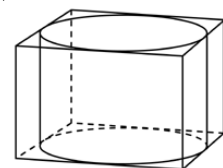
- 10 № 25721 Найдите площадь поверхности многогранника, изображенного на рисунке (все двугранные углы прямые).



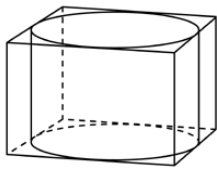
- 11 № 25881 Найдите площадь поверхности многогранника, изображенного на рисунке (все двугранные углы прямые).



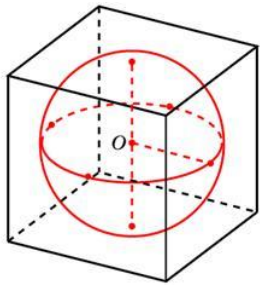
- 12 № 27041 Прямоугольный параллелепипед описан около цилиндра, радиус основания и высота которого равны 1. Найдите объем параллелепипеда.



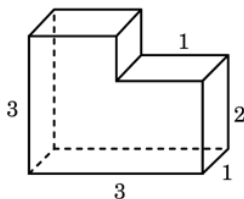
- 13 № 27042 Прямоугольный параллелепипед описан около цилиндра, радиус основания которого равен 4. Объем параллелепипеда равен 16. Найдите высоту цилиндра.



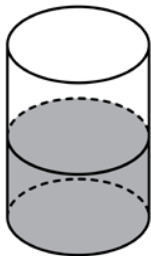
- 14 № 27043 Прямоугольный параллелепипед описан около сферы радиуса 1. Найдите его объем.



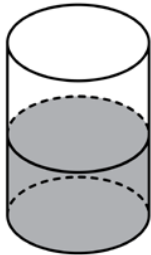
- 15 № 27044 Найдите объем многогранника, изображенного на рисунке (все двугранные углы многогранника прямые).



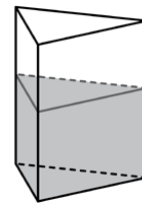
- 16 № 27045 В цилиндрический сосуд налили 2000 см<sup>3</sup> воды. Уровень жидкости оказался равным 12 см. В воду полностью погрузили деталь. При этом уровень жидкости в сосуде поднялся на 9 см. Чему равен объем детали? Ответ выразите в см<sup>3</sup>.



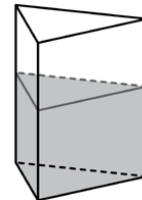
- 17 № 27046 В цилиндрическом сосуде уровень жидкости достигает 16 см. На какой высоте будет находиться уровень жидкости, если ее перелить во второй цилиндрический сосуд, диаметр которого в 2 раза больше диаметра первого? Ответ выразите в сантиметрах.



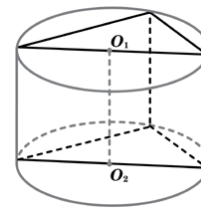
- 18 № 27047 В сосуд, имеющий форму правильной треугольной призмы, налили 2300 см<sup>3</sup> воды и полностью в нее погрузили деталь. При этом уровень жидкости в сосуде поднялся с отметки 25 см до отметки 27 см. Чему равен объем детали? Ответ выразите в см<sup>3</sup>.



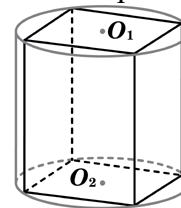
- 19 № 27048 В сосуд, имеющий форму правильной треугольной призмы, налили воду. Уровень воды достигает 80 см. На какой высоте будет находиться уровень воды, если ее перелить в другой такой же сосуд, у которого сторона основания в 4 раза больше, чем у первого? Ответ выразите в см.



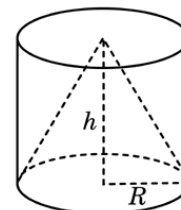
- 20 № 27049 В основании прямой призмы лежит прямоугольный треугольник с катетами 6 и 8. Боковые ребра призмы равны  $\frac{5}{\pi}$ . Найдите объем цилиндра, описанного около этой призмы.



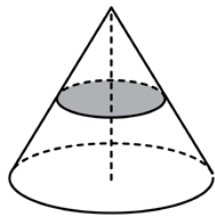
- 21 № 27050 В основании прямой призмы лежит квадрат со стороной 2. Боковые ребра призмы равны  $\frac{2}{\pi}$ . Найдите объем цилиндра, описанного около этой призмы.



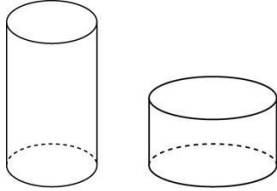
- 22 № 27051 Конус и цилиндр имеют общее основание и общую высоту (конус вписан в цилиндр). Вычислите объем цилиндра, если объем конуса равен 25.



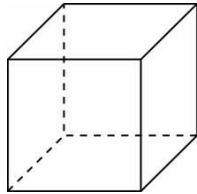
- 23 № 27052 Объем конуса равен 16. Через середину высоты параллельно основанию конуса проведено сечение, которое является основанием меньшего конуса с той же вершиной. Найдите объем меньшего конуса.



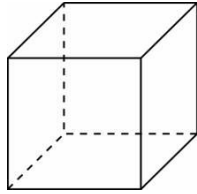
- 24 № 27053 Объем первого цилиндра равен  $12 \text{ м}^3$ . У второго цилиндра высота в три раза больше, а радиус основания – в два раза меньше, чем у первого. Найдите объем второго цилиндра. Ответ дайте в кубических метрах.



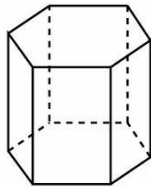
- 25 № 27055 Площадь поверхности куба равна 18. Найдите его диагональ.



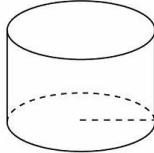
- 26 № 27056 Объем куба равен 8. Найдите площадь его поверхности.



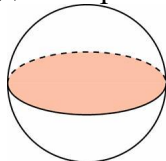
- 27 № 27057 Найдите площадь боковой поверхности правильной шестиугольной призмы, сторона основания которой равна 5, а высота – 10.



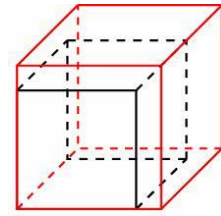
- 28 № 27058 Радиус основания цилиндра равен 2, высота равна 3. Найдите площадь боковой поверхности цилиндра, деленную на  $\pi$ .



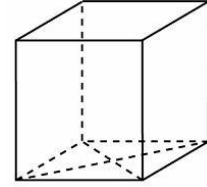
- 29 № 27059 Площадь большого круга шара равна 3. Найдите площадь поверхности шара.



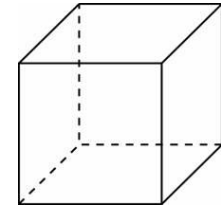
- 30 № 27061 Если каждое ребро куба увеличить на 1, то его площадь поверхности увеличится на 54. Найдите ребро куба.



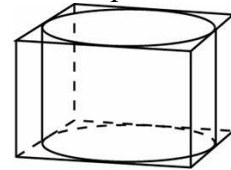
- 31 № 27062 Найдите площадь поверхности прямой призмы, в основании которой лежит ромб с диагоналями, равными 6 и 8, и боковым ребром, равным 10.



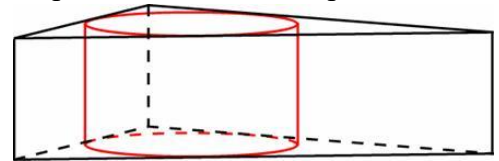
- 32 № 27063 Найдите боковое ребро правильной четырехугольной призмы, если сторона ее основания равна 20, а площадь поверхности равна 1760.



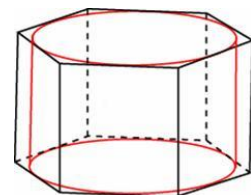
- 33 № 27064 Правильная четырехугольная призма описана около цилиндра, радиус основания и высота которого равны 1. Найдите площадь боковой поверхности призмы.



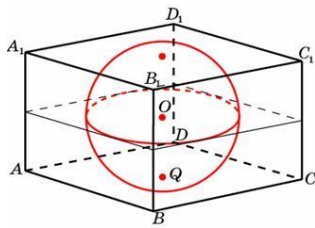
- 34 № 27065 Найдите площадь боковой поверхности правильной треугольной призмы, описанной около цилиндра, радиус основания которого равен  $\sqrt{3}$ , а высота равна 2.



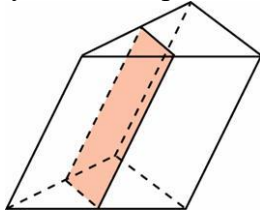
- 35 № 27066 Найдите площадь боковой поверхности правильной шестиугольной призмы, описанной около цилиндра, радиус основания которого равен  $\sqrt{3}$ , а высота равна 2.



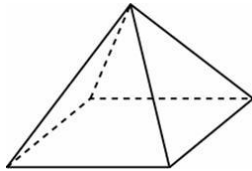
- 36 № 27067 Прямоугольный параллелепипед описан около единичной сферы. Найдите его площадь поверхности.



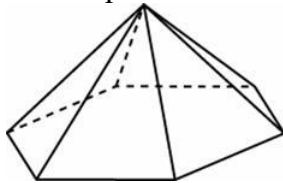
- 37 № 27068 Через среднюю линию основания треугольной призмы, площадь боковой поверхности которой равна 24, проведена плоскость, параллельная боковому ребру. Найдите площадь боковой поверхности отсеченной треугольной призмы.



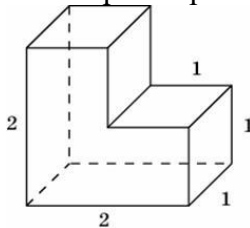
- 38 № 27069 Стороны основания правильной четырехугольной пирамиды равны 10, боковые ребра равны 13. Найдите площадь поверхности этой пирамиды.



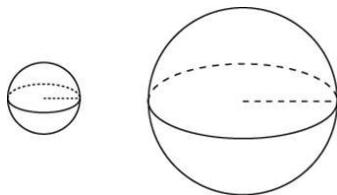
- 39 № 27070 Стороны основания правильной шестиугольной пирамиды равны 10, боковые ребра равны 13. Найдите площадь боковой поверхности этой пирамиды.



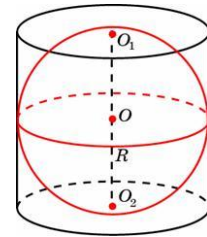
- 40 № 27071 Найдите площадь поверхности многогранника, изображенного на рисунке, все двугранные углы которого прямые.



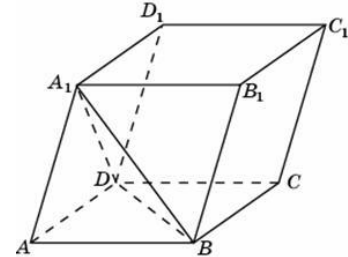
- 41 № 27072 Во сколько раз увеличится площадь поверхности шара, если радиус шара увеличить в 2 раза?



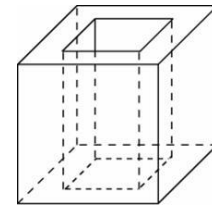
- 42 № 27073 Около шара описан цилиндр, площадь поверхности которого равна 18. Найдите площадь поверхности шара.



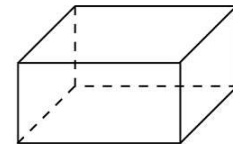
- 43 № 27074 Объем параллелепипеда  $ABCA_1B_1C_1D_1$  равен 9. Найдите объем треугольной пирамиды  $ABCA_1$ .



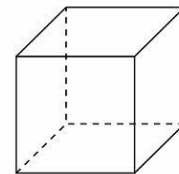
- 44 № 27075 Из единичного куба вырезана правильная четырехугольная призма со стороной основания 0,5 и боковым ребром 1. Найдите площадь поверхности оставшейся части куба.



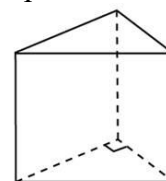
- 45 № 27079 Два ребра прямоугольного параллелепипеда, выходящие из одной вершины, равны 2 и 6. Объем параллелепипеда равен 48. Найдите третье ребро параллелепипеда, выходящее из той же вершины.



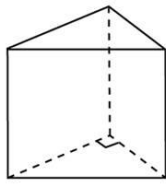
- 46 № 27081 Во сколько раз увеличится объем куба, если все его ребра увеличить в три раза?



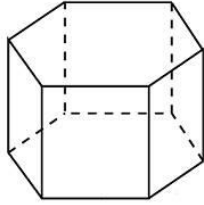
- 47 № 27082 Основанием прямой треугольной призмы является прямоугольный треугольник с катетами 6 и 8, боковое ребро призмы равно 5. Найдите объем призмы.



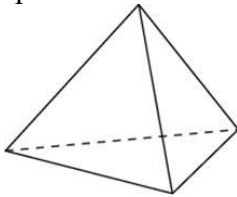
- 48 № 27083 Основанием прямой треугольной призмы служит прямоугольный треугольник с катетами 3 и 5. Объем призмы равен 30. Найдите ее боковое ребро.



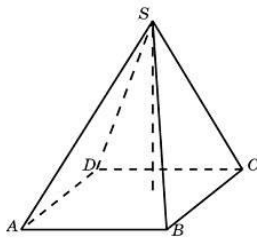
- 49 № 27084 Найдите объем правильной шестиугольной призмы, стороны основания которой равны 1, а боковые ребра равны  $\sqrt{3}$ .



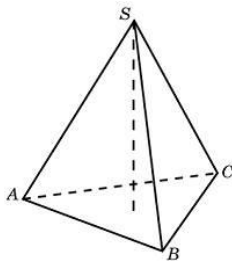
- 50 № 27085 Во сколько раз увеличится объем правильного тетраэдра, если все его ребра увеличить в два раза?



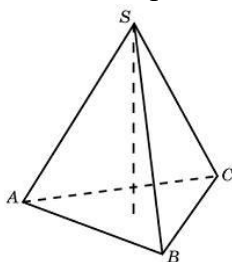
- 51 № 27086 Основанием пирамиды является прямоугольник со сторонами 3 и 4. Ее объем равен 16. Найдите высоту этой пирамиды.



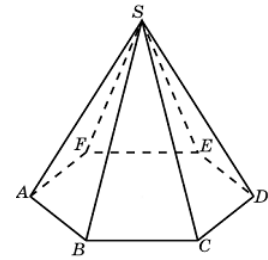
- 52 № 27087 Найдите объем правильной треугольной пирамиды, стороны основания которой равны 1, а высота равна  $\sqrt{3}$ .



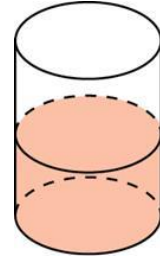
- 53 № 27088 Найдите высоту правильной треугольной пирамиды, стороны основания которой равны 2, а объем равен  $\sqrt{3}$ .



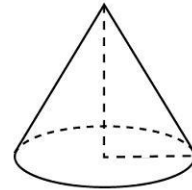
- 54 № 27089 Во сколько раз увеличится объем пирамиды, если ее высоту увеличить в четыре раза?



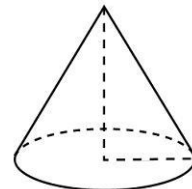
- 55 № 27091 В цилиндрический сосуд, в котором находится 6 литров воды, опущена деталь. При этом уровень жидкости в сосуде поднялся в 1,5 раза. Чему равен объем детали? Ответ выразите в литрах.



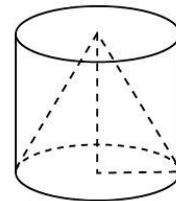
- 56 № 27094 Во сколько раз уменьшится объем конуса, если его высота уменьшится в 3 раза, а радиус основания останется прежним?



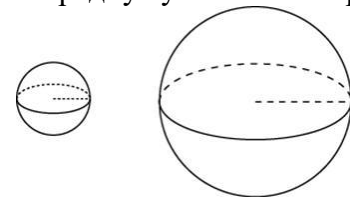
- 57 № 27095 Во сколько раз увеличится объем конуса, если радиус его основания увеличится в 1,5 раза, а высота останется прежней?



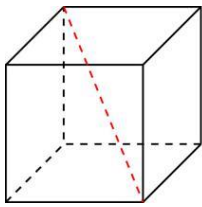
- 58 № 27096 Конус и цилиндр имеют общее основание и общую высоту (конус вписан в цилиндр). Вычислите объем конуса, если объем цилиндра равен 150.



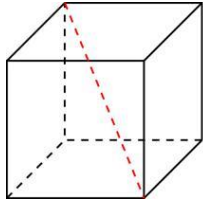
- 59 № 27097 Во сколько раз увеличится объем шара, если его радиус увеличить в три раза?



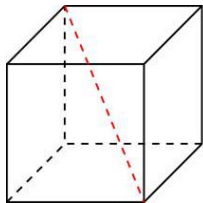
- 60 № 27098 Диагональ куба равна  $\sqrt{12}$ . Найдите его объем.



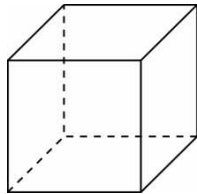
- 61 № 27099 Объем куба равен  $24\sqrt{3}$ . Найдите его диагональ.



- 62 № 27100 Два ребра прямоугольного параллелепипеда, выходящие из одной вершины, равны 2, 4. Диагональ параллелепипеда равна 6. Найдите объем параллелепипеда.

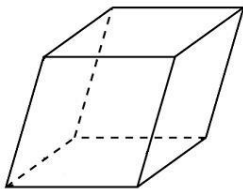


- 63 № 27102 Если каждое ребро куба увеличить на 1, то его объем увеличится на 19. Найдите ребро куба.

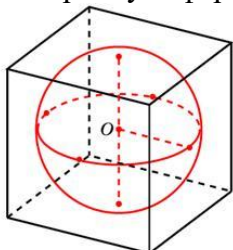


- 64 № 27103 Одна из граней прямоугольного параллелепипеда – квадрат. Диагональ параллелепипеда равна  $\sqrt{8}$  и образует с плоскостью этой грани угол  $45^\circ$ . Найдите объем параллелепипеда.

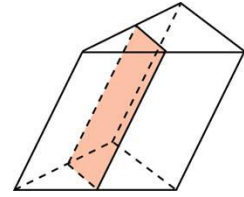
- 65 № 27104 Гранью параллелепипеда является ромб со стороной 1 и острым углом  $60^\circ$ . Одно из ребер параллелепипеда составляет с плоскостью этой грани угол  $60^\circ$  и равно 2. Найдите объем параллелепипеда.



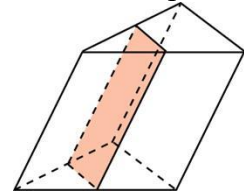
- 66 № 27105 Объем прямоугольного параллелепипеда, описанного около сферы, равен 216. Найдите радиус сферы.



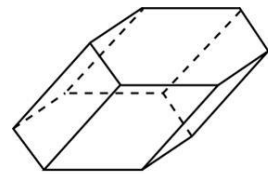
- 67 № 27106 Через среднюю линию основания треугольной призмы, объем которой равен 32, проведена плоскость, параллельная боковому ребру. Найдите объем отсеченной треугольной призмы.



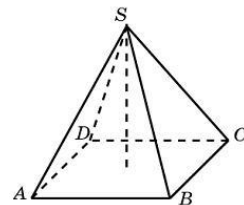
- 68 № 27107 Через среднюю линию основания треугольной призмы проведена плоскость, параллельная боковому ребру. Объем отсеченной треугольной призмы равен 5. Найдите объем исходной призмы.



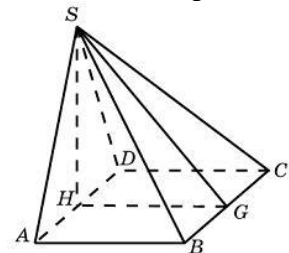
- 69 № 27108 Найдите объем призмы, в основаниях которой лежат правильные шестиугольники со сторонами 2, а боковые ребра равны  $2\sqrt{3}$  и наклонены к плоскости основания под углом  $30^\circ$ .



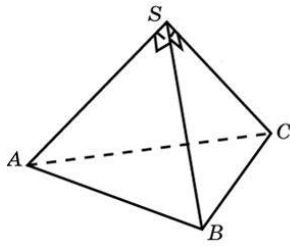
- 70 № 27109 В правильной четырехугольной пирамиде высота равна 6, боковое ребро равно 10. Найдите ее объем.



- 71 № 27110 Основанием пирамиды служит прямоугольник, одна боковая грань перпендикулярна плоскости основания, а три другие боковые грани наклонены к плоскости основания под углом  $60^\circ$ . Высота пирамиды равна 6. Найдите объем пирамиды.

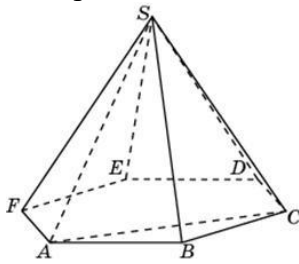


- 72 № 27111 Боковые ребра треугольной пирамиды взаимно перпендикулярны, каждое из них равно 3. Найдите объем пирамиды.

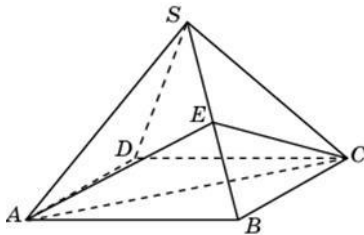


73 № 27112 От треугольной призмы, объем которой равен 6, отсечена треугольная пирамида плоскостью, проходящей через сторону одного основания и противоположную вершину другого основания. Найдите объем оставшейся части.

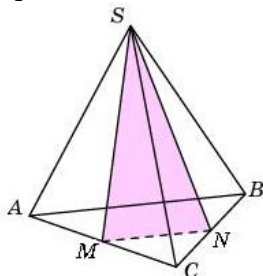
74 № 27113 Объем треугольной пирамиды  $SABC$ , являющейся частью правильной шестиугольной пирамиды  $SABCDEF$ , равен 1. Найдите объем шестиугольной пирамиды.



75 № 27114 Объем правильной четырехугольной пирамиды  $SABCD$  равен 12. Точка  $E$  – середина ребра  $SB$ . Найдите объем треугольной пирамиды  $EABC$ .

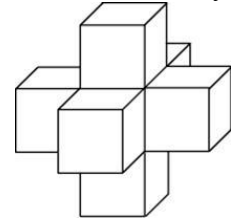


76 № 27115 От треугольной пирамиды, объем которой равен 12, отсечена треугольная пирамида плоскостью, проходящей через вершину пирамиды и среднюю линию основания. Найдите объем отсеченной треугольной пирамиды.

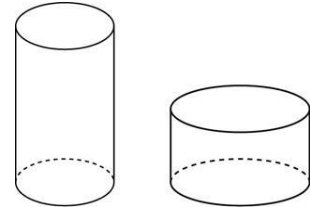


77 № 27116 Объем треугольной пирамиды равен 15. Плоскость проходит через сторону основания этой пирамиды и пересекает противоположное боковое ребро в точке, делящей его в отношении 1 : 2, считая от вершины пирамиды. Найдите больший из объемов пирамид, на которые плоскость разбивает исходную пирамиду.

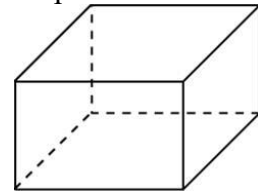
78 № 27117 Найдите объем пространственного креста, изображенного на рисунке и составленного из единичных кубов.



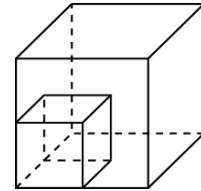
79 № 27118 Одна цилиндрическая кружка вдвое выше второй, зато вторая в полтора раза шире. Найдите отношение объема второй кружки к объему первой.



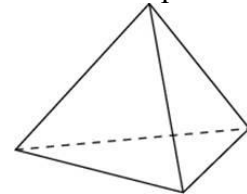
80 № 27128 Рёбра прямоугольного параллелепипеда равны 1, 2, 3. Найдите площадь его поверхности.



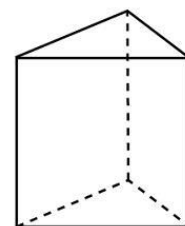
81 № 27130 Во сколько раз увеличится площадь поверхности куба, если все его рёбра увеличить в три раза?



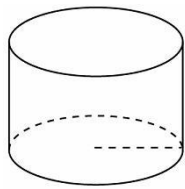
82 № 27131 Во сколько раз увеличится площадь поверхности правильной тетраэдра, если все его ребра увеличить в два раза?



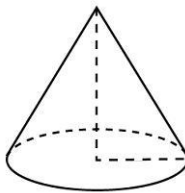
83 № 27132 Основанием прямой треугольной призмы служит прямоугольный треугольник с катетами 6 и 8, высота призмы равна 10. Найдите площадь ее поверхности.



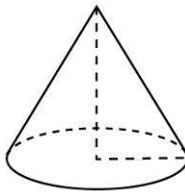
84 № 27133 Длина окружности основания цилиндра равна 3, высота равна 2. Найдите площадь боковой поверхности цилиндра.



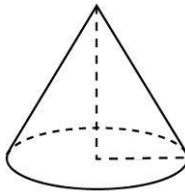
- 85 № 27135 Длина окружности основания конуса равна 3, образующая равна 2. Найдите площадь боковой поверхности конуса.



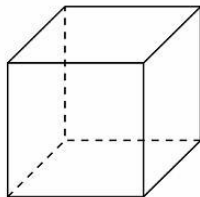
- 86 № 27136 Во сколько раз увеличится площадь боковой поверхности конуса, если его образующая увеличится в 3 раза, а радиус основания останется прежним?



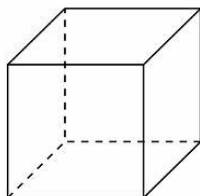
- 87 № 27137 Во сколько раз уменьшится площадь боковой поверхности конуса, если радиус его основания уменьшится в 1,5 раза, а образующая останется прежней?



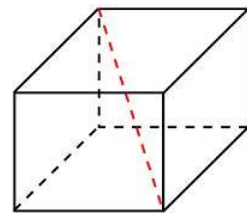
- 88 № 27139 Диагональ куба равна 1. Найдите площадь его поверхности.



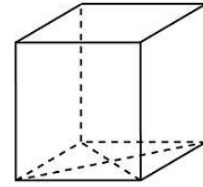
- 89 № 27141 Площадь поверхности куба равна 24. Найдите его объем.



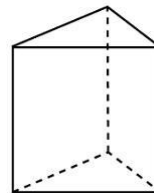
- 90 № 27143 Два ребра прямоугольного параллелепипеда, выходящие из одной вершины, равны 2, 4. Диагональ параллелепипеда равна 6. Найдите площадь поверхности параллелепипеда.



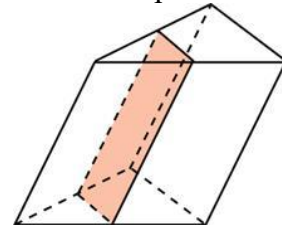
- 91 № 27148 В основании прямой призмы лежит ромб с диагоналями, равными 6 и 8. Площадь ее поверхности равна 248. Найдите боковое ребро этой призмы.



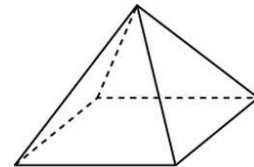
- 92 № 27151 Основанием прямой треугольной призмы служит прямоугольный треугольник с катетами 6 и 8. Площадь ее поверхности равна 288. Найдите высоту призмы.



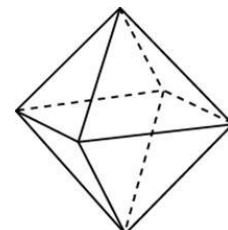
- 93 № 27153 Через среднюю линию основания треугольной призмы проведена плоскость, параллельная боковому ребру. Площадь боковой поверхности отсеченной треугольной призмы равна 8. Найдите площадь боковой поверхности исходной призмы.



- 94 № 27155 Найдите площадь поверхности правильной четырехугольной пирамиды, стороны основания которой равны 6 и высота равна 4.

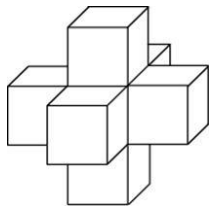


- 95 № 27157 Во сколько раз увеличится площадь поверхности октаэдра, если все его ребра увеличить в 3 раза?

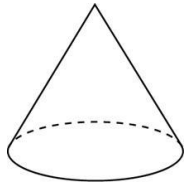


- 96 № 27158 Найдите площадь поверхности пространственного креста, изображенного на рисунке и составленного из единичных кубов.

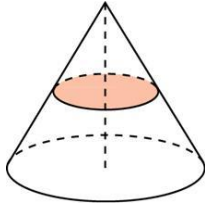




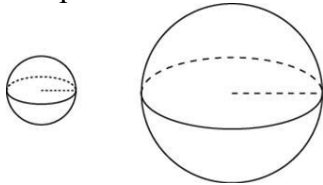
- 97 № 27160 Площадь боковой поверхности конуса в два раза больше площади основания. Найдите угол между образующей конуса и плоскостью основания. Ответ дайте в градусах.



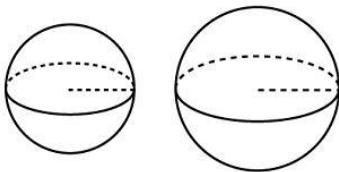
- 98 № 27161 Площадь полной поверхности конуса равна 12. Параллельно основанию конуса проведено сечение, делящее высоту пополам. Найдите площадь полной поверхности отсеченного конуса.



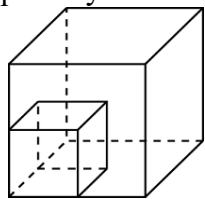
- 99 № 27162 Объем одного шара в 27 раз больше объема второго. Во сколько раз площадь поверхности первого шара больше площади поверхности второго?



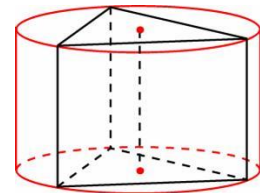
- 100 № 27163 Радиусы двух шаров равны 6 и 8. Найдите радиус шара, площадь поверхности которого равна сумме площадей поверхностей двух данных шаров.



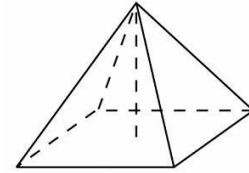
- 101 № 27168 Объем первого куба в 8 раз больше объема второго куба. Во сколько раз площадь поверхности первого куба больше площади поверхности второго куба?



- 102 № 27170 Найдите площадь боковой поверхности правильной треугольной призмы, вписанной в цилиндр, радиус основания которого равен  $2\sqrt{3}$ , а высота равна 2.

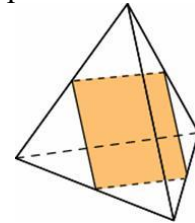


- 103 № 27171 Найдите площадь боковой поверхности правильной четырехугольной пирамиды, сторона основания которой равна 6 и высота равна 4.

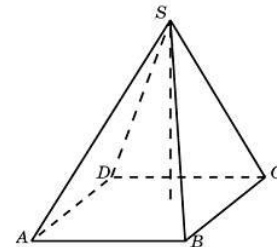


- 104 № 27172 Во сколько раз увеличится площадь поверхности пирамиды, если все ее ребра увеличить в 2 раза?

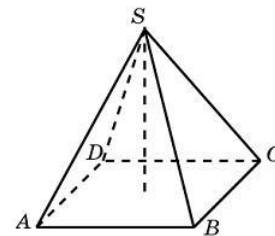
- 105 № 27175 Ребра тетраэдра равны 1. Найдите площадь сечения, проходящего через середины четырех его ребер.



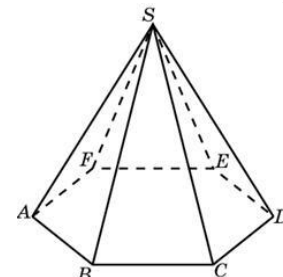
- 106 № 27176 Найдите объем пирамиды, высота которой равна 6, а основание – прямоугольник со сторонами 3 и 4.



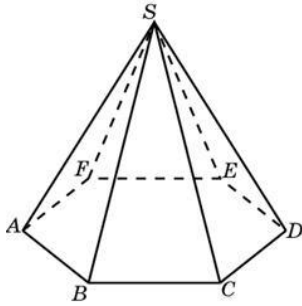
- 107 № 27178 В правильной четырехугольной пирамиде высота равна 12, объем равен 200. Найдите боковое ребро этой пирамиды.



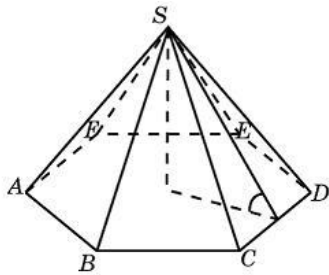
- 108 № 27179 Сторона основания правильной шестиугольной пирамиды равна 2, боковое ребро равно 4. Найдите объем пирамиды.



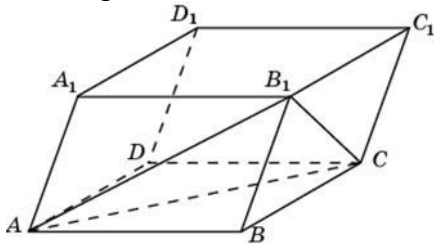
- 109 № 27180 Объем правильной шестиугольной пирамиды 6. Сторона основания равна 1. Найдите боковое ребро.



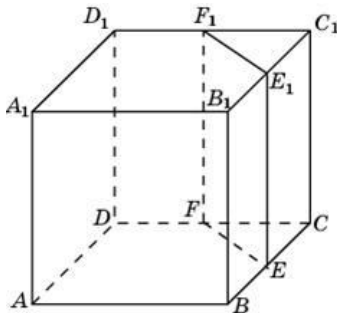
- 110 № 27181 Сторона основания правильной шестиугольной пирамиды равна 4, а угол между боковой гранью и основанием равен  $45^\circ$ . Найдите объем пирамиды.



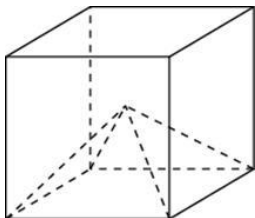
- 111 № 27182 Объем параллелепипеда  $ABCD A_1 B_1 C_1 D_1$  равен 12. Найдите объем треугольной пирамиды  $B_1 ABC$ .



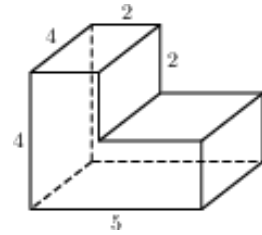
- 112 № 27183 Объем куба равен 12. Найдите объем треугольной призмы, отсекаемой от него плоскостью, проходящей через середины двух ребер, выходящих из одной вершины и параллельной третьему ребру, выходящему из этой же вершины.



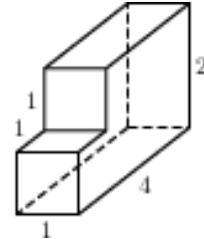
- 113 № 27184 Объем куба равен 12. Найдите объем четырехугольной пирамиды, основанием которой является грань куба, а вершиной – центр куба.



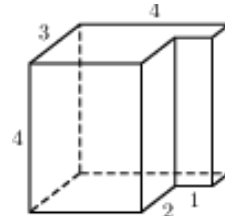
- 114 № 27187 Найдите объем многогранника, изображенного на рисунке (все двугранные углы прямые).



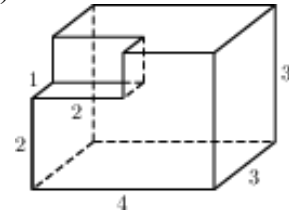
- 115 № 27188 Найдите объем многогранника, изображенного на рисунке (все двугранные углы прямые).



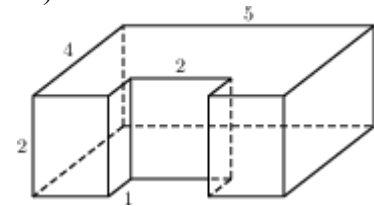
- 116 № 27189 Найдите объем многогранника, изображенного на рисунке (все двугранные углы прямые).



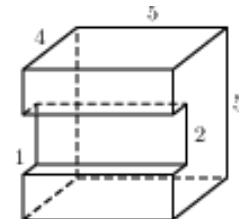
- 117 № 27190 Найдите объем многогранника, изображенного на рисунке (все двугранные углы прямые).



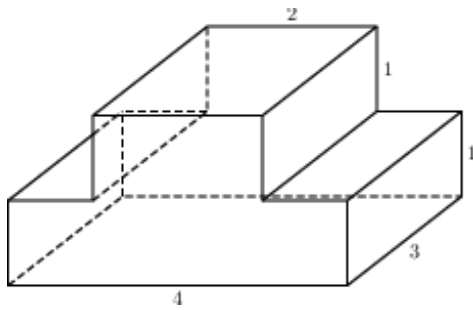
- 118 № 27191 Найдите объем многогранника, изображенного на рисунке (все двугранные углы прямые).



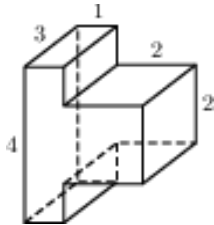
- 119 № 27192 Найдите объем многогранника, изображенного на рисунке (все двугранные углы прямые).



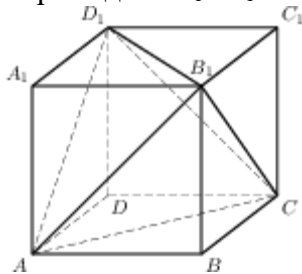
- 120 № 27193 Найдите объем многогранника, изображенного на рисунке (все двугранные углы прямые).



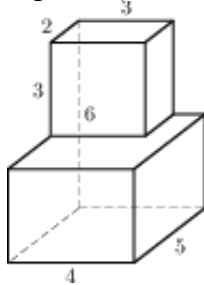
- 121 № 27194 Найдите объем многогранника, изображенного на рисунке (все двугранные углы прямые).



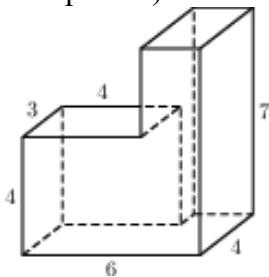
- 122 № 27209 Объем параллелепипеда  $ABCD A_1 B_1 C_1 D_1$  равен 4,5. Найдите объем треугольной пирамиды  $AD_1 CB_1$ .



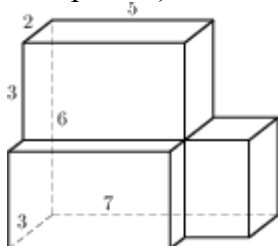
- 123 № 27210 Найдите объем многогранника (все двугранные углы прямые).



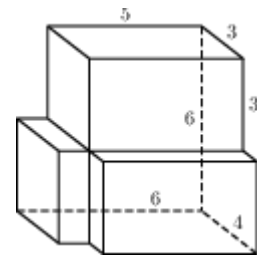
- 124 № 27211 Найдите объем многогранника (все двугранные углы прямые).



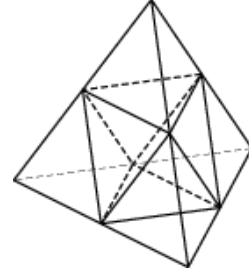
- 125 № 27212 Найдите объем многогранника (все двугранные углы прямые).



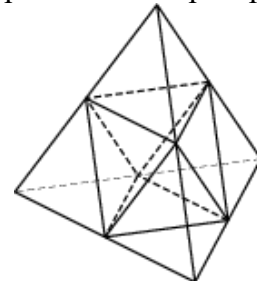
- 126 № 27213 Найдите объем многогранника (все двугранные углы прямые).



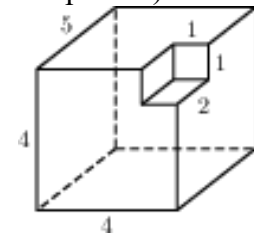
- 127 № 27214 Объем тетраэдра равен 19. Найдите объем многогранника, вершинами которого являются середины ребер данного тетраэдра.



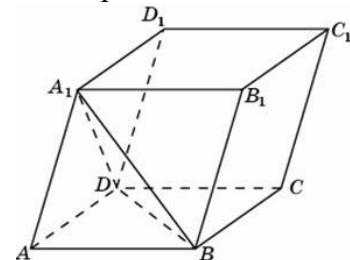
- 128 № 27215 Площадь поверхности тетраэдра равна 12. Найдите площадь поверхности многогранника, вершинами которого являются середины ребер данного тетраэдра.



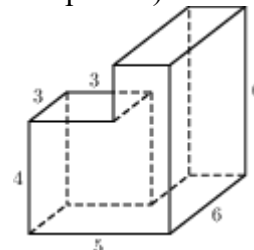
- 129 № 27216 Найдите объем многогранника (все двугранные углы прямые).



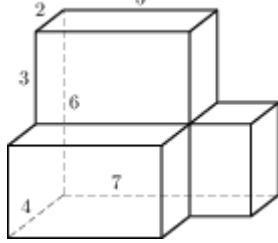
- 130 № 77154 Найдите объем параллелепипеда  $ABCD A_1 B_1 C_1 D_1$ , если объем треугольной пирамиды  $ABDA_1$  равен 3.



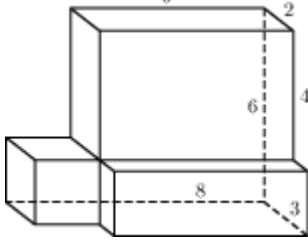
- 131 № 77155 Найдите площадь поверхности многогранника, изображенного на рисунке (все двугранные углы прямые).



- 132 № 77156 Найдите площадь поверхности многогранника (все двугранные углы прямые).



- 133 № 77157 Найдите площадь поверхности многогранника (все двугранные углы прямые).



- 134 № 245335 Найдите объем многогранника, вершинами которого являются точки  $A, D, A_1, B, C, B_1$  прямоугольного параллелепипеда  $ABCDA_1B_1C_1D_1$ , у которого  $AB=3, AD=4, AA_1=5$ .

- 135 № 245336 Найдите объем многогранника, вершинами которого являются точки  $A, B, C, D_1$  прямоугольного параллелепипеда  $ABCDA_1B_1C_1D_1$ , у которого  $AB=4, AD=3, AA_1=4$ .

- 136 № 245337 Найдите объем многогранника, вершинами которого являются точки  $A_1, B, C, C_1, B_1$  прямоугольного параллелепипеда  $ABCDA_1B_1C_1D_1$ , у которого  $AB=4, AD=3, AA_1=4$ .

- 137 № 245338 Найдите объем многогранника, вершинами которого являются точки  $A, B, C, B_1$  прямоугольного параллелепипеда  $ABCDA_1B_1C_1D_1$ , у которого  $AB=3, AD=3, AA_1=4$ .

- 138 № 245339 Найдите объем многогранника, вершинами которого являются точки  $A, B, B_1, C_1$  прямоугольного параллелепипеда  $ABCDA_1B_1C_1D_1$ , у которого  $AB=5, AD=3, AA_1=4$ .

- 139 № 245340 Найдите объем многогранника, вершинами которого являются точки  $A, B, C, A_1$  правильной треугольной призмы  $ABCA_1B_1C_1$ , площадь основания которой равна 2, а боковое ребро равно 3.

- 140 № 245341 Найдите объем многогранника, вершинами которого являются точки  $A, B, C, A_1, C_1$  правильной треугольной призмы  $ABCA_1B_1C_1$ , площадь основания которой равна 3, а боковое ребро равно 2.

- 141 № 245342 Найдите объем многогранника, вершинами которого являются точки  $A_1, B_1, B, C$  правильной треугольной призмы  $ABCA_1B_1C_1$ , площадь основания которой равна 4, а боковое ребро равно 3.

- 142 № 245343 Найдите объем многогранника, вершинами которого являются точки  $A, B, C, D, E, F, A_1$  правильной шестиугольной призмы  $ABCDEF A_1B_1C_1D_1E_1F_1$ , площадь основания

которой равна 4, а боковое ребро равно 3.

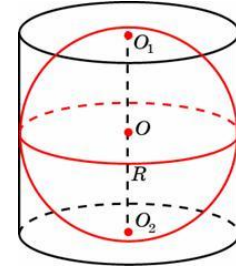
- 143 № 245344 Найдите объем многогранника, вершинами которого являются точки  $A, B, C, A_1, B_1, C_1$  правильной шестиугольной призмы  $ABCDEF A_1B_1C_1D_1E_1F_1$ , площадь основания которой равна 6, а боковое ребро равно 3.

- 144 № 245345 Найдите объем многогранника, вершинами которого являются точки  $A, B, D, E, A_1, B_1, D_1, E_1$  правильной шестиугольной призмы  $ABCDEF A_1B_1C_1D_1E_1F_1$ , площадь основания которой равна 6, а боковое ребро равно 2.

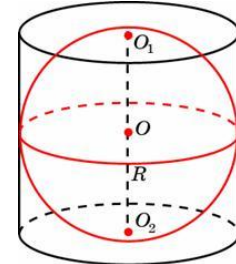
- 145 № 245346 Найдите объем многогранника, вершинами которого являются точки  $A, B, C, D, A_1, B_1, C_1, D_1$  правильной шестиугольной призмы  $ABCDEF A_1B_1C_1D_1E_1F_1$ , площадь основания которой равна 6, а боковое ребро равно 2.

- 146 № 245347 Найдите объем многогранника, вершинами которого являются точки  $A, B, C, B_1$  правильной шестиугольной призмы  $ABCDEF A_1B_1C_1D_1E_1F_1$ , площадь основания которой равна 6, а боковое ребро равно 3.

- 147 № 245348 Цилиндр описан около шара. Объем цилиндра равен 33. Найдите объем шара.



- 148 № 245349 Цилиндр описан около шара. Объем шара равен 24. Найдите объем цилиндра.



- 149 № 245350 Конус и цилиндр имеют общее основание и общую высоту (конус вписан в цилиндр). Вычислите объем цилиндра, если объем конуса равен 5.

- 150 № 245351 Конус вписан в шар. Радиус основания конуса равен радиусу шара. Объем шара равен 28. Найдите объем конуса.

- 151 № 245352 Конус вписан в шар. Радиус основания конуса равен радиусу шара. Объем конуса равен 6. Найдите объем шара.

- 152 № 245354 Правильная четырехугольная призма описана около цилиндра, радиус основания которого равен 2. Площадь боковой поверхности призмы равна 48. Найдите высоту цилиндра.

153 № 245355 Куб вписан в шар радиуса  $\sqrt{3}$ .

Найдите объем куба.

154 № 245356 Площадь поверхности правильной треугольной призмы равна 6. Какой станет площадь поверхности призмы, если все её рёбра увеличатся в три раза, а форма останется прежней?

155 № 245358 Длина окружности основания цилиндра равна 3. Площадь боковой поверхности равна 6. Найдите высоту цилиндра.

156 № 245361 Найдите угол  $ABD_1$  прямоугольного параллелепипеда, для которого  $AB = 5$ ,  $AD = 4$ ,  $AA_1 = 3$ . Ответ дайте в градусах.

157 № 245363 Найдите угол  $DBD_1$  прямоугольного параллелепипеда, для которого  $AB = 4$ ,  $AD = 3$ ,  $AA_1 = 5$ . Ответ дайте в градусах.

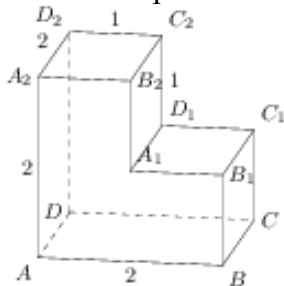
158 № 245364 В правильной шестиугольной призме  $ABCDEF A_1 B_1 C_1 D_1 E_1 F_1$  все ребра равны 1. Найдите расстояние между точками  $A$  и  $E_1$ .

159 № 245366 В правильной шестиугольной призме  $ABCDEF A_1 B_1 C_1 D_1 E_1 F_1$  все ребра равны  $\sqrt{5}$ . Найдите расстояние между точками  $B$  и  $E_1$ .

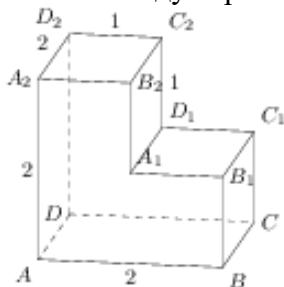
160 № 245367 В правильной шестиугольной призме  $ABCDEF A_1 B_1 C_1 D_1 E_1 F_1$  все ребра равны 1. Найдите тангенс угла  $AD_1 D$ .

161 № 245369 В правильной шестиугольной призме  $ABCDEF A_1 B_1 C_1 D_1 E_1 F_1$  все ребра равны 1. Найдите угол  $AC_1 C$ . Ответ дайте в градусах.

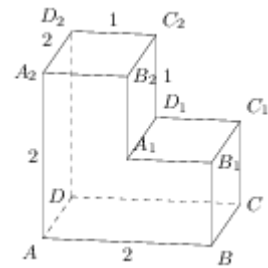
162 № 245370 Найдите расстояние между вершинами  $A$  и  $C_2$  многогранника. Все двугранные углы многогранника прямые.



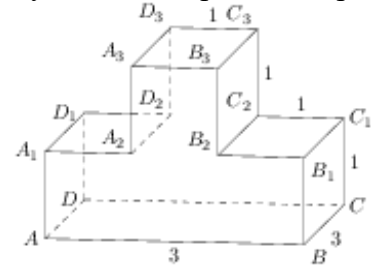
163 № 245372 На рисунке изображён многогранник, все двугранные углы многогранника прямые. Найдите расстояние между вершинами  $B_1$  и  $D_2$ .



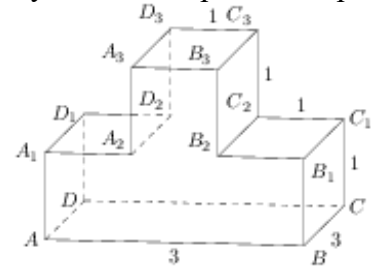
164 № 245375 На рисунке изображён многогранник, все двугранные углы многогранника прямые. Найдите тангенс угла  $B_2 A_2 C_2$ .



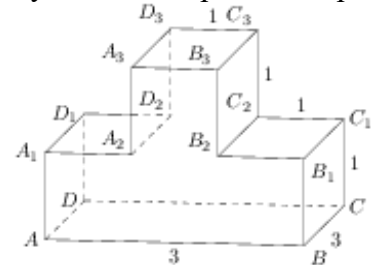
165 № 245376 Найдите квадрат расстояния между вершинами  $B_2$  и  $D_3$  многогранника. Все двугранные углы многогранника прямые.



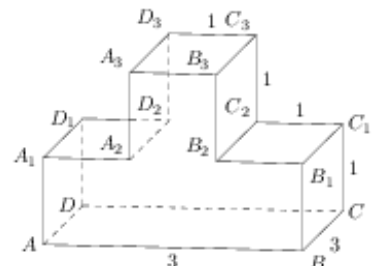
166 № 245377 Найдите квадрат расстояния между вершинами  $B$  и  $D_2$  многогранника. Все двугранные углы многогранника прямые.



167 № 245378 Найдите квадрат расстояния между вершинами  $A$  и  $C_3$  многогранника. Все двугранные углы многогранника прямые.

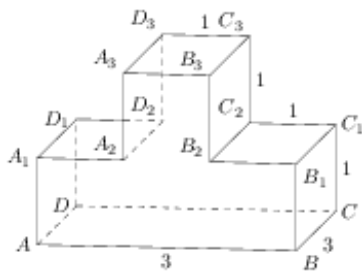


168 № 245379 На рисунке изображён многогранник, все двугранные углы многогранника прямые. Найдите тангенс угла  $C_2 C_3 B_2$ .

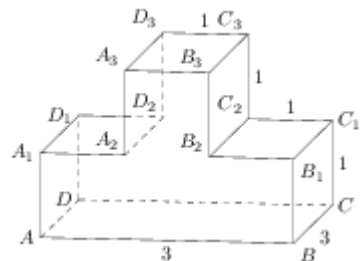


169 № 245380 На рисунке изображён многогранник, все двугранные углы многогранника прямые. Найдите тангенс угла  $ABB_3$ .

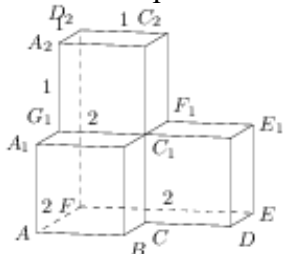




- 170 № 245381 На рисунке изображён многогранник, все двугранные углы многогранника прямые. Найдите тангенс угла  $C_3D_3B_3$ .



- 171 № 245382 Найдите квадрат расстояния между вершинами  $D$  и  $C_2$  многогранника. Все двугранные углы многогранника прямые.



- 172 № 284348 В правильной четырехугольной пирамиде  $SABCD$  точка  $O$  – центр основания,  $S$  – вершина,  $SO = 4$ ,  $AC = 6$ . Найдите боковое ребро  $SC$ .
- 173 № 284349 В правильной четырехугольной пирамиде  $SABCD$  точка  $O$  – центр основания,  $S$  – вершина,  $SC = 5$ ,  $AC = 6$ . Найдите длину отрезка  $SO$ .
- 174 № 284350 В правильной четырехугольной пирамиде  $SABCD$  точка  $O$  – центр основания,  $S$  – вершина,  $SO = 4$ ,  $SC = 5$ . Найдите длину отрезка  $AC$ .
- 175 № 284357 В прямоугольном параллелепипеде  $ABCD A_1 B_1 C_1 D_1$  известно, что  $BD_1 = 3$ ,  $CD = 2$ ,  $AD = 2$ . Найдите длину ребра  $AA_1$ .
- 176 № 284358 Высота конуса равна 4, а диаметр основания – 6. Найдите образующую конуса.
- 177 № 284359 Высота конуса равна 4, а длина образующей – 5. Найдите диаметр основания конуса.
- 178 № 284360 Диаметр основания конуса равен 6, а длина образующей – 5. Найдите высоту конуса.
- 179 № 284361 Площадь боковой поверхности цилиндра равна  $2\pi$ , а диаметр основания – 1. Найдите высоту цилиндра.
- 180 № 284362 Площадь боковой поверхности цилиндра равна  $2\pi$ , а высота – 1. Найдите диаметр основания.

- 181 № 284363 В прямоугольном параллелепипеде  $ABCD A_1 B_1 C_1 D_1$  известно, что  $DD_1 = 1$ ,  $CD = 2$ ,  $AD = 2$ . Найдите длину диагонали  $CA_1$ .

- 182 № 315130 В кубе  $ABCD A_1 B_1 C_1 D_1$  точка  $K$  – середина ребра  $AA_1$ , точка  $L$  – середина ребра  $A_1 B_1$ , точка  $M$  – середина ребра  $A_1 D_1$ . Найдите угол  $MLK$ . Ответ дайте в градусах.

- 183 № 315131 В прямоугольном параллелепипеде  $ABCD A_1 B_1 C_1 D_1$  ребро  $AB = 2$ , ребро  $AD = \sqrt{5}$ , ребро  $AA_1 = 2$ . Точка  $K$  – середина ребра  $BB_1$ . Найдите площадь сечения, проходящего через точки  $A_1$ ,  $D_1$  и  $K$ .

- 184 № 316552 В прямоугольном параллелепипеде  $ABCD A_1 B_1 C_1 D_1$  известны длины рёбер:  $AB = 24$ ,  $AD = 10$ ,  $AA_1 = 22$ . Найдите площадь сечения, проходящего через вершины  $A$ ,  $A_1$  и  $C$ .

- 185 № 316554 В кубе  $ABCD A_1 B_1 C_1 D_1$  найдите угол между прямыми  $AD_1$  и  $B_1 D_1$ . Ответ дайте в градусах.

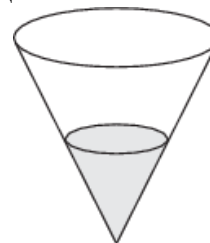
- 186 № 316555 Около конуса описана сфера (сфера содержит окружность основания конуса и его вершину). Центр сферы находится в центре основания конуса. Образующая конуса равна  $7\sqrt{2}$ . Найдите радиус сферы.

- 187 № 316556 Около конуса описана сфера (сфера содержит окружность основания конуса и его вершину). Центр сферы находится в центре основания конуса. Радиус сферы равен  $28\sqrt{2}$ . Найдите образующую конуса.

- 188 № 316557 Шар вписан в цилиндр. Площадь поверхности шара равна 111. Найдите площадь полной поверхности цилиндра.

- 189 № 316558 В правильной треугольной призме  $ABCA_1 B_1 C_1$ , все ребра которой равны 3, найдите угол между прямыми  $AA_1$  и  $BC_1$ . Ответ дайте в градусах.

- 190 № 318145 В сосуде, имеющем форму конуса, уровень жидкости достигает  $\frac{1}{2}$  высоты. Объём жидкости равен 70 мл. Сколько миллилитров жидкости нужно долить, чтобы полностью наполнить сосуд?

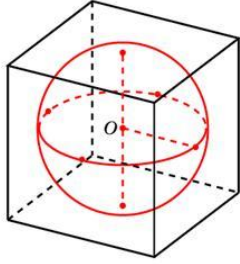


- 191 № 318146 В правильной четырёхугольной пирамиде  $SABCD$  с основанием  $ABCD$  боковое ребро  $SA$  равно 5, сторона основания равна  $3\sqrt{2}$ . Найдите объём пирамиды.

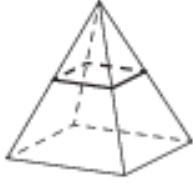
- 192 № 318474 В прямоугольном параллелепипеде  $ABCD A_1 B_1 C_1 D_1$  известны длины рёбер  $AB = 8$ ,  $AD = 6$ ,  $AA_1 = 21$ . Найдите синус угла между прямыми  $CD$  и  $A_1 C_1$ .

- 193 № 318475 В правильной четырёхугольной призме  $ABCD A_1 B_1 C_1 D_1$  известно, что  $AC_1 = 2BC$ . Найдите угол между диагоналями  $BD_1$  и  $CA_1$ . Ответ дайте в градусах.

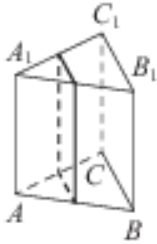
- 194 № 324449 Шар, объём которого равен  $6\pi$ , вписан в куб. Найдите объём куба.



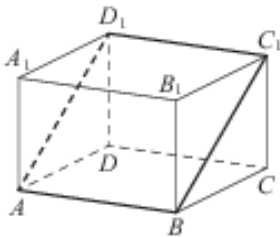
- 195 № 324450 В правильной четырёхугольной пирамиде все рёбра равны 1. Найдите площадь сечения пирамиды плоскостью, проходящей через середины боковых рёбер.



- 196 № 324451 В правильной треугольной призме  $ABCA_1 B_1 C_1$  стороны оснований равны 2, боковые рёбра равны 5. Найдите площадь сечения призмы плоскостью, проходящей через середины рёбер  $AB$ ,  $AC$ ,  $A_1 B_1$  и  $A_1 C_1$ .



- 197 № 324452 В прямоугольном параллелепипеде  $ABCD A_1 B_1 C_1 D_1$  известны длины рёбер:  $AB = 3$ ,  $AD = 5$ ,  $AA_1 = 12$ . Найдите площадь сечения параллелепипеда плоскостью, проходящей через точки  $A$ ,  $B$  и  $C_1$ .

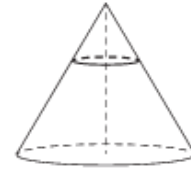


- 198 № 324453 Площадь основания конуса равна  $16\pi$ , высота – 6. Найдите площадь осевого сечения конуса.



- 199 № 324454 Площадь основания конуса равна 18. Плоскость, параллельная плоскости основания конуса, делит его высоту на отрезки длиной 3 и 6, считая от вершины. Найдите

площадь сечения конуса этой плоскостью.



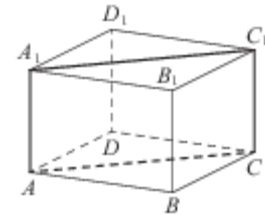
- 200 № 324455 Высота конуса равна 8, а длина образующей – 10. Найдите площадь осевого сечения этого конуса.



- 201 № 324456 Диаметр основания конуса равен 12, а длина образующей – 10. Найдите площадь осевого сечения этого конуса.



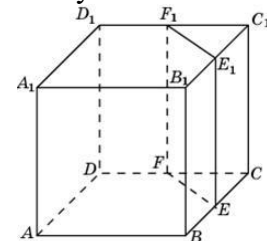
- 202 № 324457 В правильной четырёхугольной призме  $ABCD A_1 B_1 C_1 D_1$  ребро  $AA_1$  равно 15, а диагональ  $BD_1$  равна 17. Найдите площадь сечения призмы плоскостью, проходящей через точки  $A$ ,  $A_1$  и  $C$ .



- 203 № 324458 Цилиндр и конус имеют общие основание и высоту. Высота цилиндра равна радиусу основания. Площадь боковой поверхности цилиндра равна  $3\sqrt{2}$ . Найдите площадь боковой поверхности конуса.



- 204 № 324459 Объём треугольной призмы, отсекаемой от куба плоскостью, проходящей через середины двух рёбер, выходящих из одной вершины, и параллельной третьему ребру, выходящему из этой же вершины, равен 2. Найдите объём куба.



- 205 № 508284 В правильной треугольной пирамиде боковое ребро равно 5, а сторона основания равна  $3\sqrt{3}$ . Найдите высоту пирамиды.

206 № 508285 В правильной треугольной призме

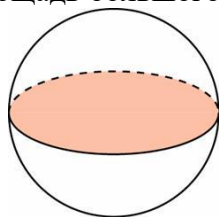
$ABCA_1B_1C_1$  известно, что  $AB = \sqrt{3}AA_1$ .

Найдите угол между прямыми  $AB_1$  и  $CC_1$ .

Ответ дайте в градусах.

207 № 508286 Площадь поверхности шара равна

12. Найдите площадь большого круга шара.



**Ответы:**

|          |          |           |         |        |           |
|----------|----------|-----------|---------|--------|-----------|
| 1. 18    | 36. 24   | 71. 48    | 106.24  | 141.4  | 176.5     |
| 2. 76    | 37. 12   | 72. 4,5   | 107.13  | 142.4  | 177.6     |
| 3. 92    | 38. 340  | 73. 4     | 108.12  | 143.3  | 178.4     |
| 4. 110   | 39. 360  | 74. 6     | 109.7   | 144.8  | 179.2     |
| 5. 94    | 40. 14   | 75. 3     | 110.48  | 145.6  | 180.2     |
| 6. 132   | 41. 4    | 76. 3     | 111.2   | 146.1  | 181.3     |
| 7. 114   | 42. 12   | 77. 10    | 112.1,5 | 147.22 | 182.60    |
| 8. 48    | 43. 1,5  | 78. 7     | 113.2   | 148.36 | 183.5     |
| 9. 84    | 44. 7,5  | 79. 1,125 | 114.56  | 149.15 | 184.572   |
| 10. 96   | 45. 4    | 80. 22    | 115.7   | 150.7  | 185.60    |
| 11. 124  | 46. 27   | 81. 9     | 116.40  | 151.24 | 186.7     |
| 12. 4    | 47. 120  | 82. 4     | 117.34  | 152.3  | 187.56    |
| 13. 0,25 | 48. 4    | 83. 288   | 118.36  | 153.8  | 188.166,5 |
| 14. 8    | 49. 4,5  | 84. 6     | 119.90  | 154.54 | 189.45    |
| 15. 8    | 50. 8    | 85. 3     | 120.18  | 155.2  | 190.490   |
| 16. 1500 | 51. 4    | 86. 3     | 121.24  | 156.45 | 191.48    |
| 17. 4    | 52. 0,25 | 87. 1,5   | 122.1,5 | 157.45 | 192.0,6   |
| 18. 184  | 53. 3    | 88. 2     | 123.78  | 158.2  | 193.60    |
| 19. 5    | 54. 4    | 89. 8     | 124.104 | 159.5  | 194.36    |
| 20. 125  | 55. 3    | 90. 64    | 125.87  | 160.2  | 195.0,25  |
| 21. 4    | 56. 3    | 91. 10    | 126.114 | 161.60 | 196.5     |
| 22. 75   | 57. 2,25 | 92. 10    | 127.9,5 | 162.3  | 197.39    |
| 23. 2    | 58. 50   | 93. 16    | 128.6   | 163.3  | 198.24    |
| 24. 9    | 59. 27   | 94. 96    | 129.78  | 164.2  | 199.2     |
| 25. 3    | 60. 8    | 95. 9     | 130.18  | 165.11 | 200.48    |
| 26. 24   | 61. 6    | 96. 30    | 131.162 | 166.14 | 201.48    |
| 27. 300  | 62. 32   | 97. 60    | 132.156 | 167.17 | 202.120   |
| 28. 12   | 63. 2    | 98. 3     | 133.152 | 168.3  | 203.3     |
| 29. 12   | 64. 4    | 99. 9     | 134.30  | 169.2  | 204.16    |
| 30. 4    | 65. 1,5  | 100.10    | 135.8   | 170.3  | 205.4     |
| 31. 248  | 66. 3    | 101.4     | 136.16  | 171.6  | 206.60    |
| 32. 12   | 67. 8    | 102.36    | 137.6   | 172.5  | 207.3     |
| 33. 8    | 68. 20   | 103.60    | 138.10  | 173.4  |           |
| 34. 36   | 69. 18   | 104.4     | 139.2   | 174.6  |           |
| 35. 24   | 70. 256  | 105.0,25  | 140.4   | 175.1  |           |